



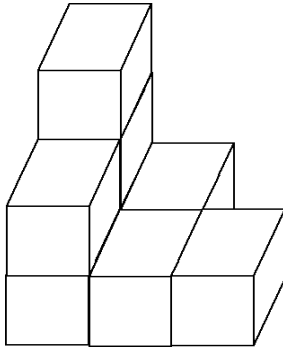
MATEMÁTICA APLICADA

CEF OI – 1º Tipo 2

Professor João Narciso

Ficha de Trabalho 18 – Cálculo de Volumes 1

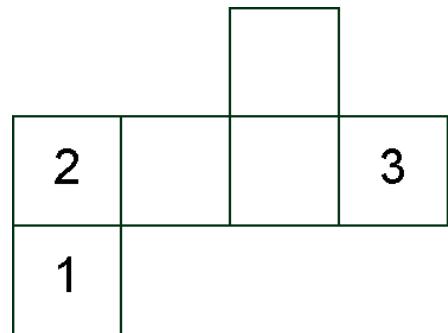
1. Observa a figura.



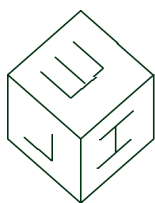
O número de cubos que compõem esta figura é:

- (A) 7; (B) 8; (C) 9; (D) 4.

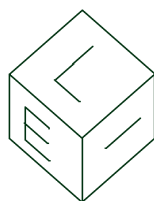
2. Num dado a soma dos números inscritos em faces opostas é 7. **Completa** a planificação seguinte:



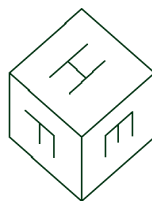
3. Um dos cubos representados na figura é diferente dos outros. **Indica-o.**



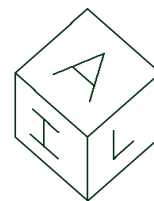
1



2

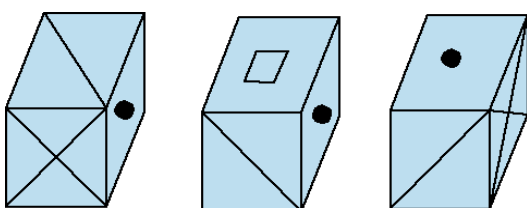


3



4

4. Na figura podes observar três posições de um mesmo cubo.



O 4.º cubo desta sequência será:

